

2. uri – SLOVENSKI JEZIK

NAVODILA:

OSTRŽEK

Kako si je Simon izdelal lutko že veš.

Zelo znana lutka je Ostržek. Izdelal jo je mojster Pepe. To pa ni bila navadna lutka. Oglej si lutkovno predstavo na tej povezavi.

Poišči Ostržka.

<http://solalaporje.splet.arnes.si/gledaliske-predstave-na-spletu/>



Mojster Pepe pri izdelavi Ostržka.





NAVODILA ZA DELO


V DZ na strani 66, 67 in 68 so opisane

- ploska lutka na palici - 66
- marioneta - 67
- javajka - 68

Izberi si eno od njih (lahko tudi vse, po želji) in reši pero **ali** zvezdico **ali** utež.

LUTKE

Ploska lutka lisica je izdelana iz kartona. Sestavljajo jo: glava, trup, štiri noge in rep. Deli so med seboj povezani s posebnimi kovinskimi spenjalji, ki jim rečemo razcepke. Lutka je pritrjena na palico.




Obkroži. izberi besedilo na strani 66, 67 ali 68.

- Lutka je sestavljena iz več delov.
DA NE
- Ploska lutka je izdelana iz
lesa. kartona. volne.
- Deli lutke so med seboj povezani
z razcepkami. z žico. z vrvicami.
- Lutka je pritrjena na
držalo. palico. karton.

Nariši lutko, ki jo boš izdelal.

Lutka marioneta je izdelana iz lipovega lesa, blaga in vrvice. Sestavljajo jo: lesene roke, glava, trup in noge. Vsak delček telesa je izdelan posebej, nato pa so sestavljeni v lutko. Lutka je pobarvana in oblečena v oblačila. S posebnimi vrvicami je navezana na držalo.



Odgovori.

- Iz katerega lesa je izdelana lutka marioneta?


- Kaj sestavlja marioneto?

- S čim je navezana na držalo?

Napiši naslov lutkovne predstave, ki si si jo že ogledal.

Kotere vrste lutk so nastopale v predstavi?

Lutka javajka je izdelana iz lesa, penaste gume, blaga in volne. Iz pene so oblikovane gibljive roke in glava. Lasje so iz volne. Obleka je narejena iz blaga. Lutka ima tri lesene palice. Glavna in najdaljša poteka vzdolž telesa in nosi glavo lutke. Krajši palici sta pritrjeni na roki. Z njima premikamo roki lutke.



Obkroži DA, če je trditev pravilna; obkroži NE, če trditev ni pravilna.

Lutka javajka je izdelana iz različnih materialov.	DA	NE
Roke in glava niso gibljive.	DA	NE
Obleka in lasje so iz penaste gume.	DA	NE
Glava lutke je pritrjena na najdaljšo palico.	DA	NE
S krajšima palicama premikamo roki lutke.	DA	NE

Poišči, katere lutkovne predstave so na sporedu v slovenskih lutkovnih gledališčih. Napiši vsaj en naslov.



ŠPORT

NAVODILO:

Vadi skok v višino, daljino in skakanje s kolebnico.



**MATEMATIKA****NAVODILA:**

Računam do 100 – utrjevanje in ponavljanje DZ stran 14, 15

Če imamo 3 števila lahko iz njih sestavimo 4 račune.

12	15	27
----	----	----

$12 + 15 = 27$ nato seštevanca zamenjamo

$15 + 12 = 27$

pri odštevanju je najprej največje število (zmanjševanec)

$27 - 15 = 12$ nato še zamenjamo odštevanec in razliko

$27 - 12 = 15$

Na 3 liste si zapiši števila in jih sestavljaš v 4 račune.

Ponoviš in utrdiš seštevanje in odštevanje do 100 tako, da rešuješ naloge v DZ (14, 15).

RAČUNAM DO 100

1. Dopolni. Sestavi po štiri račune.

77 63 14 56 13 98

2. Rezultat napiši v prazno polje pod računom.

99-56= 43 L	84-21= O	59-23= D	69-22= I
86-54= O	60-8= C	100-46= N	

Rezultate uredi od najmanjšega do največjega in jih vpiši v preglednico.
Pod vsak rezultat vpiši ustrezno črko.


	43				
	L				


3. Reši.


$34+34+11=$	$59-27-32=$	$23+32-44=$
$66+12+20=$	$49-19-0=$	$17+41-23=$
$12+12+12=$	$99-22-22=$	$35-14+58=$

4. Črke vpiši pod rezultate v preglednici. Preberi, kaj je za Domno, Urbano in Filipa na našem planetu najbolj onesnaženo.

$38-30=$ R	$64-31=$ D	$40+8=$ M
$86-82=$ K	$57-50=$ A	$42+3=$ J
$70-64=$ Z	$80-71=$ V	$44+6=$ Z
$96-56=$ A	$37-17=$ O	$29+20=$ A
		$34+13=$ L
		$42+0=$ E


DOMEN


URBAN


FILIP

6 8 40 +	9 20 33 7	50 +2 +8 +7 +5 +9
----------	-----------	-------------------

5. Na igrišču se igra 12 deklic in 13 dečkov. Kaj lahko izračunaš?
Izračunaj lahko, _____
Odgovor: _____

**RAČUNE
FOTOGRAFIRAJTE
IN JIH POŠLJITE
UČITELJICI NA
MAIL.**



SLOVENSKI JEZIK

NAVODILO:

VELIKA IN MALA PISANA ČRKA F

Mala pisana črka f je posebna saj je v DZ čez 3 vrste, v zvezku z vmesno črto pa čez 2 in gre pod prvo črto, podobno kot j, p, g.

Velika pisana črka se piše čez 2 vrsti.

Postopek zdaj že poznamo: (saj ste se jih več kot polovico naučili samostojno)


- ogled poteznosti pri pisanju črke
- mali pisan f – 2 vrsti
- velik pisan F – 2 vrsti

Nato še besede do konca vrste, s pisanimi črkami:

- fazan
- fižol
- Franko
- Fani

VSE PO ENO VRSTO.

V DZ reši eno stran. Na drugi vadi le velik pisan F ter do konca vrste napiši Filip.





SPOZNAVANJE OKOLJA

NAVODILO:

TEDEN RDEČEGA KRIŽA (8. 5. – 15. 5.)

Z 8. majem se v Sloveniji pričinja teden Rdečega križa, ki vsako leto poteka od 8. do 15. maja.



Kaj je teden Rdečega križa?

Povezuje se s svetovnim dnevom Rdečega križa in Rdečega polmeseca 8. majem. Ustanovitelj gibanja je Henri Dunant. Prostovoljci delujejo v 192 državah sveta za pomoč ljudem v stiski.

Rdeči križ Slovenije igra pomembno vlogo pri odzivanju na nujne primere, in trajajoče, nenehno spreminjajoče se razmere glede pandemije koronavirusa (COVID-19) niso izjema.

Vsaka, tudi najbogatejša, družba potrebuje prostovoljce in humanitarne organizacije.

Njihov pomen je zelo preprost. V času krize smo tukaj, da pomagamo ljudem. Smo lokalni in globalni. To počnemo že več kot 150 let. Naša mreža neverjetnega osebja in prostovoljcev v negotovih časih pomeni, da smo edinstveno dosegljivi za ljudi.





NALOGA:

KDAJ KLIČEMO IN KDAJ NE KLIČEMO 112?

Naštete primere razvrsti v dve skupini: na primere, ko je potrebno klicati 112 in na primere, ko ni potrebno klicati 112. V kolikor za kakšen primer nisi prepričan, se posvetuj z brati, sestrami ali starši.

Primeri: <https://rksozlj->

my.sharepoint.com/:b:/g/personal/nina_zalaznik_rdecikrizljubljana_si/EY1Gnlv0OR5MoIW2B-G-2agBi_l0hCdsIGOAApBWgKhLvA?e=1vllja

NALOGA:

ČE SE ZGODI NESREČA IN POTREBUJEM POMOČ

Preberi predstavitev in izpolni priložen učni list.

Predstavitev 1: <https://rksozlj->

my.sharepoint.com/:p:/g/personal/nina_zalaznik_rdecikrizljubljana_si/ESkwpldRq1NIjro0GGRIWCcBVSbQetr-avKRrqnajxKhUQ?e=6ScacX

Predstavitev 2: <https://rksozlj->

my.sharepoint.com/:p:/g/personal/nina_zalaznik_rdecikrizljubljana_si/ES5JriZgdkZOmybTzbQCAY0BeaKkkpdZhPHY8li1E1zC4A?e=DMWXbq

Učni list: <https://rksozlj->

my.sharepoint.com/:w:/g/personal/nina_zalaznik_rdecikrizljubljana_si/Ef-TpxirssRIqA7YnqTOCTkBDJt_9-wwxAOXeTUz_RDi0Q?e=iFHlfb



NAVODILA ZA DELO

V zvezek napiši kdaj pokličemo številko **112** in kaj **povemo**.

1. **Kdo kliče** (predstaviš se z imenom)
2. **Kaj se je zgodilo?** (zagorelo je v hlevu)
3. **Kje se je zgodilo?** (pri sosedu v Bodoncih 25)
4. **Kdaj se je zgodilo?** (pred petimi minutami)
5. **Koliko je ponesrečencev?** (gospodar in živali)
6. **Kakšno pomoč potrebujem?** (gasilce, reševalce, policiste)



V zvezek naredimo miselni vzorec:



ZAPIS V ZVEZKIH
FOTOGRAFIRAJTE
IN JIH POŠLJITE
UČITELJICI NA
MAIL.



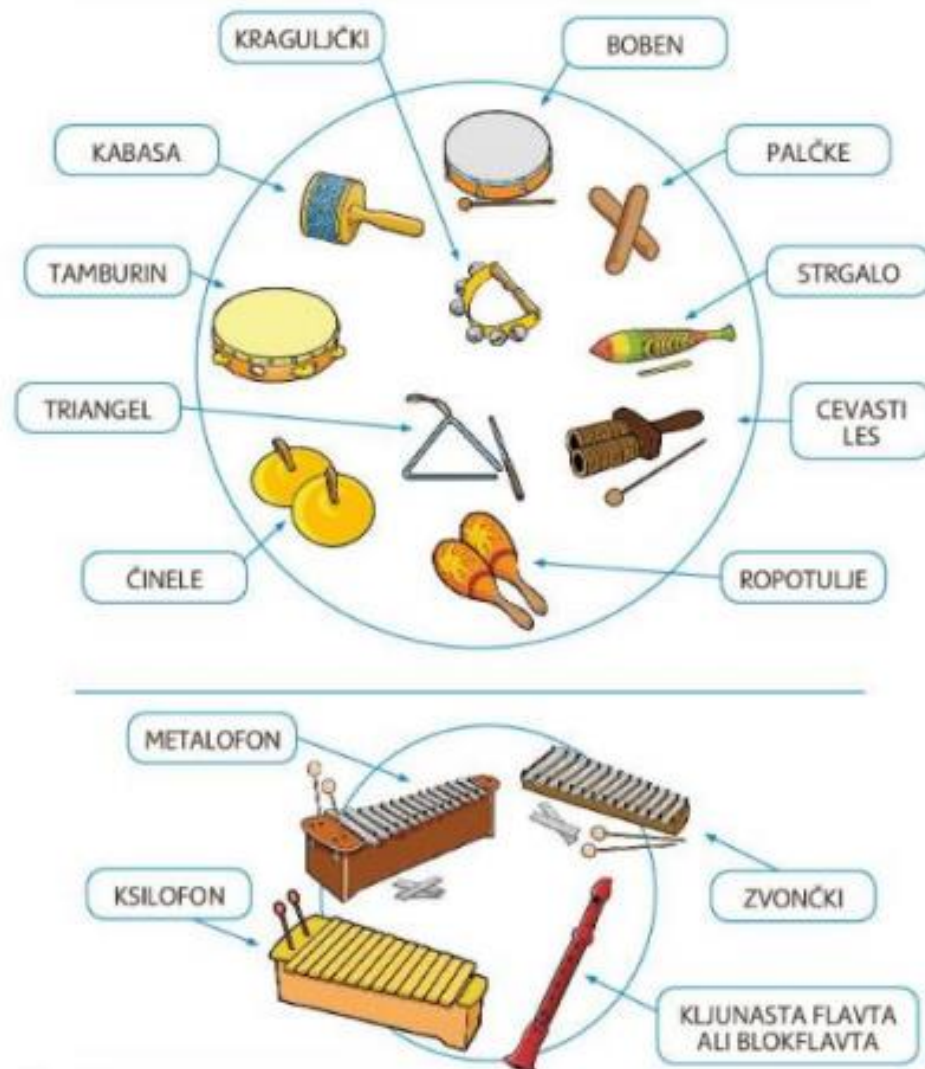
GLASBENA UMETNOST

NAVODILO:

ORFFOVI INŠTRUMENTI

Z njimi smo že velikokrat igrali in spremljali pesmi in jih tudi poimenovali.

Poglej jih v DZ in poveži njihova imena s posameznim instrumentom. (mala pomoč, če se katerega ne spomniš).





LIKOVNA UMETNOST

NAVODILO:

Izdelaj **lutko na palici** (po želji lahko je oseba, žival, predmet iz papirja, kartona, lepenke,..)

Idejo si lahko ogledaš na povezavi

<https://www.youtube.com/watch?v=W7c14jqLTkU>



Za idejami lahko pobrskaš tudi po internetu.

**IZDELKE
FOTOGRAFIRAJTE
IN JIH POŠLJITE
UČITELJICI NA
MAIL.**



2. uri - SLOVENSKI JEZIK

NAVODILO:

REŠIMO ZADNJI LIST V »BELEM« ZVEZKU.

Seveda vse pišemo s pisanimi črkami.





NAVODILO:

OB POTOKU

Ugotovi na 69. strani v DZ kako je ime otrokom.

Zapiši jih. Ne pozabi na veliko začetnico (tudi na začetku povedi).

Preberi vprašanja in **ustno odgovori**.

Odgovore **zapiši** v zvezek (vmesna črta) s pisanimi črkami.

OB POTOKU

1. Odgovori.

	<p>Kam je odšla družina? Kaj so izdelovali?</p>
	<p>Kam so postavili mlinček? Zakaj so bili veseli?</p>
	<p>Kdo je pritekel k potoku? Kaj se je zgodilo Nejcu? Kaj je polomil? Ali se je Nejc prestrašil?</p>
	<p>Kaj je naredila mamica? Kaj sta delala očka in Rožle? Kaj je naredila Gaja?</p>



MATEMATIKA

NAVODILO:

ČRTIČNI PRIKAZ

PONOVIMO:

Spomnimo se kako smo prikazovali s črtičnim prikazom in kaj pomeni.



Torej je gripo preživel 63 učencev.

Preštej in zapiši še ostale bolezni s številom, da boš lahko rešil 16. stran v DZ.

(za 17. stran nimamo podatkov zato jo izpustimo ali pa si sam »izmisliš« bolezni za naš razred.)

ČRTIČNI PRIKAZ

1. Dopolni črtični prikaz.

V šolski ambulanti je medicinska sestra s črtičnim prikazom prikazala število obiskov učencev pri zdravniku.

BOLEZEN	ČRTIČNI ZAPIS	ŠTEVILO
GRIPA		
NORICE		
BRONHITIS		
ANGINA		
VIROZA		
RDEČKE		

Poišči podatke v črtičnem prikazu. Pobarvaj okence s pravilnim odgovorom.

- Zaradi česa je prišlo v ambulanto največ učencev?
 rdečk gripe angine
- Zaradi česa je prišlo najmanj učencev? noric viroze rdečk
- Koliko učencev je prišlo zaradi noric? 42 48 43
- Koliko učencev je prišlo zaradi bronhitisa? 24 42 29
- Je prišlo več učencev zaradi gripe ali angine? gripe angine
- Je prišlo manj učencev zaradi viroze ali noric? viroze noric
- Zaradi katerih bolezni je prišlo v ambulanto enako mnogo učencev?
 angine, gripe noric, angine noric, viroze



ŠPORT

NAVODILO:

Vodi žogo z roko, nogo, naprej, nazaj, menjaj smeri,...)

