





Ura	<b>PONEDELJEK</b> <b>30. 3. 2020</b>	
1.	<b>SJK- Pravljica: Šivilja in škarjice</b>  Navadno je ob ponedeljkih v šoli dan za pravljico. Spoznali boste pravljico Šivilja in škarjice ter razmišljali o značilnostih pravljice.  Povezava za poslušanje radijske igre: <a href="https://www.youtube.com/watch?v=dN7SRyLuLG0">https://www.youtube.com/watch?v=dN7SRyLuLG0</a> Povezava za poslušanje pravljice za lahko noč: <a href="https://otroski.rtvsl.si/lahko-noc-otroci/avacc/media/play/id/174392952/section/oddaje">https://otroski.rtvsl.si/lahko-noc-otroci/avacc/media/play/id/174392952/section/oddaje</a>	
2.	<b>SJK- Pravljica: Šivilja in škarjice - B/108, 109 V (brezčrtni) slovenski zvezek ilustriraj tisti del književnega dogajanja, ki ti je bil najbolj všeč in preberi odlomek iz Berila na strani 108 in 109.</b>	
3.	<b>MAT</b> Prepiši nalogi v zvezek za matematiko (smešna števila) ju reši in odgovori na vprašanja. <div style="background-color: #0070C0; color: white; padding: 10px; margin-top: 10px;"> <p>Miha je imel v hranilniku 49 €. Nekaj denarja je porabil za nakup novega zvonca za kolo. Sedaj ima v hranilniku še 40 €. Koliko je stal zvonec?            Rešuj v zvezek. Zapiši tudi odgovor.</p> </div> <div style="text-align: right; margin-top: 10px;">  </div> <div style="background-color: #0070C0; color: white; padding: 10px; margin-top: 10px;"> <p><b>Razmisli in odgovori.</b></p> <p>Maša ima 53 €, Urška pa 35 €.</p> <ol style="list-style-type: none"> <li>1. Katera deklica ima več denarja?</li> <li>2. Katera ima manj denarja?</li> <li>3. Koliko denarja imata deklici skupaj?</li> <li>4. Ali si skupaj lahko kupita igralno konzolo, ki stane 89 €? Zakaj?</li> </ol> </div> <div style="text-align: right; margin-top: 10px;">  </div>	
4.	<b>TJA</b> Po navodilu učiteljice Janje	