



Dragi učenci, spoštovani starši,

V tednu od **18. 5. – 22. 5.** boste učenci ocenjeni pri **TJA**, če pa še ne bomo prišli v šolo bo ocenjena **SLJ** v tednu od **25. 5. – 29. 5.** (pisanje s pisanimi črkami, branje neumetnostnih besedil in njihovo razumevanje) in v naslednjem tednu od **1. 6. – 5. 6. MAT** (računanje do 100, seštevanje in odštevanje brez prehoda) ter **SPO** (zdrav način življenja, telo, gibanje).

Pri **LUM** sem ocenila vaše hiške, vetrnice (seveda, kdor jo je poslal ter ilustracije), ostali še pošljite svoje izdelke.

Pri **GUM** bomo ocenili poznavanje instrumentov (prepoznavanje godal, pihal, instrumentov s tipkami, Orrffova glasbila) in pri **ŠPO** skoke (v daljino, na skrinjo, met v cilj).

Podrobna navodila kako bomo ocenjevali na daljavo, še dobite. Javljam termine zaradi vaje in ponavljanja.

Vaša učiteljica *Ana*



2. uri – SLOVENSKI JEZIK

NAVODILA:

Velika in mala pisana črka G

Vse pisane črke pišite v zvezek z vmesno črto.

Poteze pri pisani črki g se začnejo kot pri a-ju, le da gre čez spodnjo črto in se tam tudi prekriža. Velik pisan G pa je kar čez 3 vrstice G.

Postopek zdaj že poznamo:

- ogled poteznosti pri pisanju črke
- mali pisan g – 2 vrsti
- velik pisan G – 2 vrsti

Nato še besede do konca vrste:

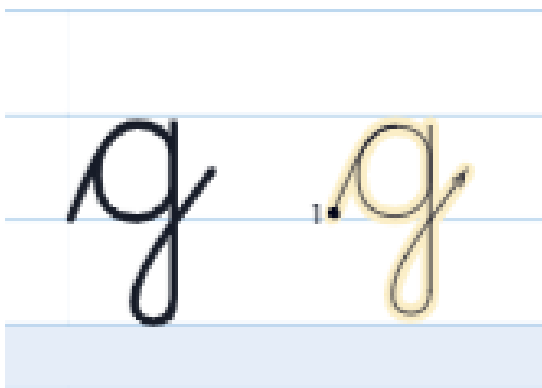
golob

galeb

Gregor

Gordana

VSE PO ENO VRSTO.





NAVODILA ZA DELO

NAVODILA:

PREDLOGI: v, iz, na, z, s

Najprej samo izgovori :

Kaj imaš **v** torbi? (**V** torbi so knjige. **V** torbi so zvezki. **V** torbi je peresnica.)

Kaj vzameš **iz** torbe? (**Iz** torbe vzamem knjigo. **Iz** torbe vzamem zvezek. **Iz** torbe vzamem peresnico.)

Svinčnik je **na** mizi. Padel je **z** mize.

Igrača je **na** kavču. Igrača je padla **s** kavča.



Nasvet za rabo predlogov z ali s:

Predlog z ali s izgovori skupaj z besedo in boš ugotovil kateri je pravilni:

Zananasom, ker s ananasom ne moremo izgovoriti

zBarbi, ker s Barbi ne moremo izgovoriti

scvetom, ker z cvetom ne moremo izgovoriti

sčešnjo, ker z češnjo ne moremo izgovoriti



NAVODILA ZA DELO

Nato reši naloge v DZ str. 62, 63.

PREDLOGI



Ptica je **v** kletki.



Ptica je zletela **iz** kletke.



Marko stoji **na** klopi.



Marko je skočil **s** klopi.




Maša je **na** drevesu.



Maša pleza **z** drevesa.

Peresnica je v torbi. Od kod boš vzel peresnico?
Knjiga je na mizi. Od kod boš vzel knjigo?
Igrača je na polici. Od kod boš vzel igračo?


1. Preberi povedi. Nariši.



Ptica sedi **na** ograji.



Ptica je zletela **z** ograje.



Metulj je **na** cvetu.



Metulj je zletel **s** cveta.

2. Oglej si fotografijo. Odgovori na vprašanje.



Kje je Majina punčka?



Od kod je Maja vzela punčko?



ŠPORT

NAVODILO:


Izvajaj aktivnosti na prostem (cel teden): vodenje žoge, met v cilj, skoki

<http://www.nogometni-trener.com/2010/02/vaja-tehnike-vodenja-zoge-v-osmici-video/>

<https://www.youtube.com/watch?v=3xHrx0PKaLc>

<https://www.youtube.com/watch?v=9pVAsAZWK3o>

https://www.youtube.com/watch?v=kSmMUE_GKeU



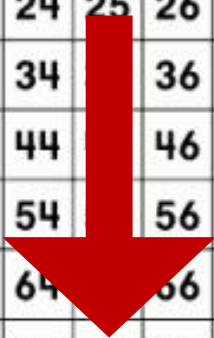
**MATEMATIKA****NAVODILA:****SEŠTEVAM DVOMESTNA ŠTEVILA DO 100**

Če k prvemu seštevanju prištevamo samo desetice potujemo navzdol po stolpcih, spremeni se le D.

$$35 + 40 = 75$$

Začnemo reševati v
3. delu v DZ.

1	2	3	4	5	6	7	8	9	10
11	12	13	14	15	16	17	18	19	20
21	22	23	24	25	26	27	28	29	30
31	32	33	34		36	37	38	39	40
41	42	43	44		46	47	48	49	50
51	52	53	54		56	57	58	59	60
61	62	63	64		66	67	68	69	70
71	72	73	74	75	76	77	78	79	80
81	82	83	84	85	86	87	88	89	90
91	92	93	94	95	96	97	98	99	100

**SEŠTEVAM DVOMESTNA ŠTEVILA DO 100**

Na tekmovanju bodo za pripravo testa za torto velikanka porabili 42 jajc, za pripravo krem in preliva pa še 20 jajc. Koliko jajc bodo porabili za pripravo torte velikanke?



$$42 + 20 = 62$$

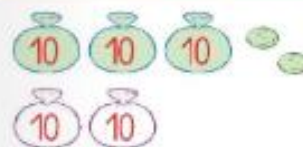
Za pripravo torte velikanke bodo porabili 62 jajc.

Oglej si sliko. Preberi račun.



$$34 + 10 = 44$$

1. Oglej si sliko. Napiši račun.



2. Seštej.

14 + 60 =	30 + 27 =	56 + 30 =
53 + 20 =	70 + 19 =	33 + 60 =
32 + 50 =	40 + 23 =	42 + 10 =
41 + 30 =	60 + 38 =	27 + 50 =
77 + 10 =	80 + 13 =	50 + 23 =
65 + 20 =	20 + 67 =	10 + 35 =

3. V modrem bloku stanuje 60 odraslih in 28 otrok, v rumenem bloku pa 42 odraslih in 30 otrok. Koliko ljudi stanuje v modrem bloku?

Odgovor: _____

Koliko ljudi stanuje v rumenem bloku?

Odgovor: _____

Koliko otrok stanuje v obeh blokih?

Odgovor: _____

**OGLEJ SI RAZLAGO V DZ NA STR. 5
IN REŠI NALOGE V DZ NA STR. 5 IN 6**



NAVODILA ZA DELO

Če pa je drugi seštevanec iz D in E, najprej prištejemo D (po stolpcu navzdol), nato še E (v desno v vrstici).

$$\begin{array}{r}
 30 \quad 4 \\
 22 + 34 = 56
 \end{array}$$

Torej 2. seštevanec razdružimo:

$$22 + 30 = 52 + 4 = 56$$

Nasvet: Pri delu si pomagaj s stotičkom, z razdruževanjem, še boljše pa, da računaš brez pomagal.

Reši še naloge v DZ na 7. in 8. strani.

Vid je imel 27 rjavih palčk, njegova sestra pa 32 rdečih palčk. Koliko palčk sta imela skupaj?

$$27 + 32 = 59$$

Skupaj sta imela 59 palčk.

4. Ogled si sliko. Napiši račun.



5. Seštej.

$$27 + 12 = 37 + 2 = \underline{\quad}$$

$$56 + 23 = 76 + 3 = \underline{\quad}$$

$$72 + 15 = \underline{\quad} = \underline{\quad}$$


$$65 + 24 = \underline{\quad} = \underline{\quad}$$

6. Seštej.

$27 + 12 = \underline{\quad}$	$56 + 23 = \underline{\quad}$	$72 + 15 = \underline{\quad}$
$33 + 25 = \underline{\quad}$	$62 + 14 = \underline{\quad}$	$51 + 35 = \underline{\quad}$
$41 + 42 = \underline{\quad}$	$74 + 25 = \underline{\quad}$	$31 + 52 = \underline{\quad}$
$17 + 51 = \underline{\quad}$	$83 + 16 = \underline{\quad}$	$23 + 71 = \underline{\quad}$

7. Reši križanko.

- VODORAVNO
- A → 13 + 34
 - B → 22 + 11
 - C → 90 + 6
 - D → 31 + 14
 - E → 0 + 29
 - F → 44 + 31
 - G → 48 + 0
 - H → 40 + 42
 - J → 14 + 12
 - K → 5 + 30



- NAVPIČNO
- A : 42 + 4
 - B : 6 + 30
 - C : 51 + 44
 - D : 8 + 11
 - D : 25 + 20
 - E : 14 + 14
 - F : 0 + 71
 - G : 40 + 2
 - H : 72 + 14
 - I : 42 + 23

B. Klovn Jaka ima v rokah 42 zelenih in 11 rdečih balonov. Koliko balonov ima Jaka?

Odgovor: _____

9. Dopolni.

Več denarja ima _____

Manj denarja ima _____

Skupaj imata _____ €.

Ali s skupnim denarjem lahko kupita igralno konzolo, ki stane 89 €?

DA NE






**TOREK,
5. 5. 2020**

ŠPORTNI DAN

Navodila pripravi učitelj
Bojan Ropoša.

Če navodil slučajno ne dobite,
izvajajte vaje kot so pripravljene za
ŠPO.





SLOVENSKI JEZIK

NAVODILO:

VELIKA IN MALA PISANA ČRKA J

Tudi ta črka gre pod prvo črto. (j, velika pa čez 3 vrste J)

Postopek zdaj že poznamo:

- ogled poteznosti pri pisanju črke
- mali pisan j – 2 vrsti
- velik pisan J – 2 vrsti

Nato še besede do konca vrste, s pisanimi črkami:

jajce

jegulja


Janko

Jelena

VSE PO ENO VRSTO.

Janko se zvija kot jegulja. Jana rada je jagode.

V DZ napiši še velike in male pisane črke – j ter besede, ki jih že znaš.





NAVODILO:

ŠIVILJA IN ŠKARJICE - Dragotin Kette

Poslušaj umetno pravljico, saj poznamo avtorja.

<https://www.youtube.com/watch?v=dN7SRYluLGO>

Ustno jo obnovi.



Kaj bi si želel? Naslov: Moj čudežni predmet

V zapisu napiši kateri čudežni predmet bi si želel, kdo naj bi ti ga podaril in zakaj.

Svojo zgodbo tudi ilustriraš in fotografijo ilustracije pošlješ učiteljici na mail.

Moj čudežni predmet

**MATEMATIKA****NAVODILO:****ODŠTEVAM DVOMESTNA ŠTEVILA DO 100**

Danes se boš preizkusil še v odštevanju. Postopek je podoben kot pri seštevanju, le da pri odštevanju D potuješ v stolpcu navzgor.

$$63 - 40 = 23$$

1	2	3	4	5	6	7	8	9	10
11	12	13	14	15	16	17	18	19	20
21	22	23	24	25	26	27	28	29	30
31	32	33	34	35	36	37	38	39	40
41	42	43	44	45	46	47	48	49	50
51	52	53	54	55	56	57	58	59	60
61	62	63	64	65	66	67	68	69	70
71	72	73	74	75	76	77	78	79	80
81	82	83	84	85	86	87	88	89	90
91	92	93	94	95	96	97	98	99	100

Ogledaš si razlago še v DZ in rešiš 9. in 10. str.

ODŠTEVAM DVOMESTNA ŠTEVILA DO 100

V šolski kuhinji so kupili 57 jajc, 30 so jih porabili za peko cesarskega praženca. Koliko jajc jim je ostalo?

$$57 - 30 = 27$$

Ostalo jim je 27 jajc.

1. Oglej si sliko. Napiši račun.

2. Odštej.

$27 - 10 =$ ___	$46 - 20 =$ ___	$67 - 30 =$ ___
$58 - 30 =$ ___	$99 - 50 =$ ___	$88 - 50 =$ ___
$92 - 80 =$ ___	$51 - 40 =$ ___	$93 - 60 =$ ___
$46 - 40 =$ ___	$87 - 80 =$ ___	$76 - 60 =$ ___
$69 - 30 =$ ___	$77 - 60 =$ ___	$27 - 10 =$ ___
$81 - 80 =$ ___	$62 - 10 =$ ___	$72 - 40 =$ ___
$73 - 60 =$ ___	$48 - 20 =$ ___	$44 - 10 =$ ___
$63 - 30 =$ ___	$55 - 30 =$ ___	$96 - 30 =$ ___

3. Odštej.

zmanjševanec	84	75	18	99	23	51	80	66
odštevanec	30	40	10	80	20	20	60	30
razlika								

4. V trgovini je bilo v hladilniku 47 jogurtov z okusom jagode. Prodali so jih 40. Koliko jogurtov z okusom jagode je ostalo v hladilniku?

Odgovor: _____

5. Vrtnarka je v sredo prodala 33 sadik solate, v četrtek pa 10 sadik manj kot v sredo. Koliko sadik solate je prodala v četrtek?

Odgovor: _____

Koliko sadik solate je prodala v obeh dneh?

Odgovor: _____