



## 2. uri – SLOVENSKI JEZIK

### NAVODILA:

**POT SKOZI GOZD** – Leopold Suhodolčan - v »našem« berilu na strani 31, 32, 33 preberi zgodbo.

Nato odgovori na vprašanja. Odgovore zapiši z malimi tiskanimi črkami v zvezek z vmesno črto.

KDO SI NI UPAL SKOZI GOZD?

KAJ SI JE V GOZD VZEL KROJAČEK HLAČEK?

KOMU JE POMAGAL KROJAČEK HLAČEK?

SI TI UPAŠ V GOZD?

KAJ OPAZIŠ V GOZDU?

ČESA SE TI BOJIŠ?

NARIŠI SVOJ STRAH?

\_\_\_\_\_

\_\_\_\_\_



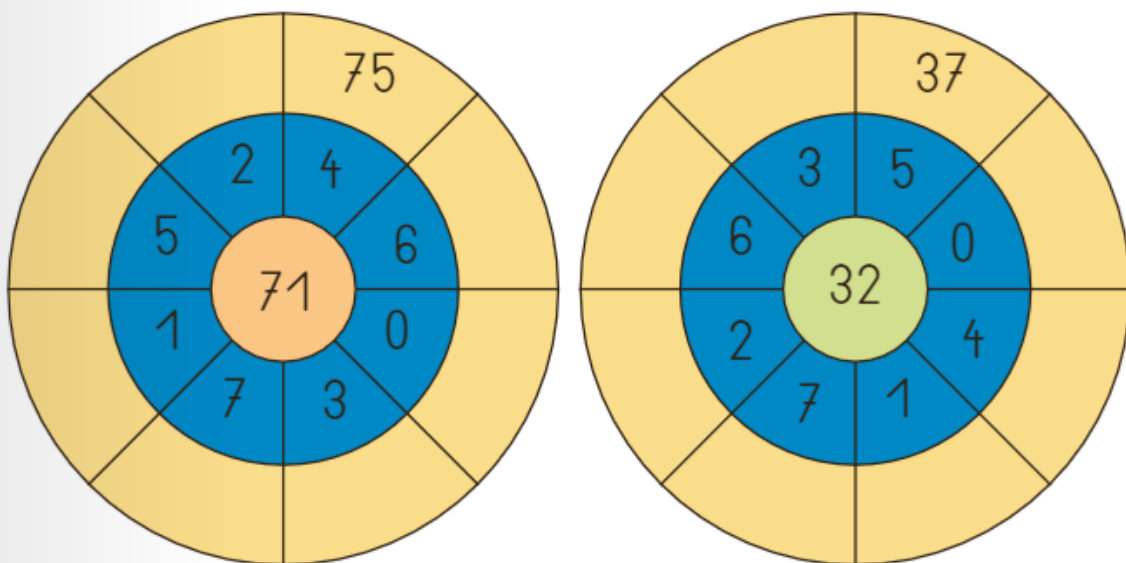
# Leopold Suhodolčan

## POT SKOZI GOZD

**MATEMATIKA**NAVODILA:**SEŠTEVANJE DE +E** – DZ str. 65, 66

Dokončaj naloge 11., 12., ter besedilni nalogi 13. in 14.

## 11. Seštej.



Vir: Rajsp, M. (2018). Lili in Bine 2. Samostojni delovni zvezek za matematiko v drugem razredu osnovne šole. Ljubljana: Rokus Klett.

Račune 11. naloge prepisi v karirasti zvezek v 2 stolpca npr:

$$71 + 4 = 75$$

$$32 + 5 = 37$$



## NAVODILA ZA DELO

### 12. Seštej.

$63 + 4 = \underline{\quad}$

$72 + 5 = \underline{\quad}$

$6 + 43 = \underline{\quad}$

$21 + 5 = \underline{\quad}$

$1 + 52 = \underline{\quad}$

$72 + 2 = \underline{\quad}$

$8 + 31 = \underline{\quad}$

$94 + 3 = \underline{\quad}$

$6 + 52 = \underline{\quad}$

$7 + 82 = \underline{\quad}$

$6 + 41 = \underline{\quad}$

$94 + 5 = \underline{\quad}$

13. V trgovini so prodali 31 lesenih žlic in 8 lesenih kuhalnic.  
Kaj lahko izračunaš?

Izračunam lahko, \_\_\_\_\_

\_\_\_\_\_

\_\_\_\_\_

Odgovor: \_\_\_\_\_

\_\_\_\_\_

14. Dedek ima v albumu 53 črno-belih fotografij in 6 barvnih.  
Kaj lahko izračunaš?

Izračunam lahko, \_\_\_\_\_

\_\_\_\_\_

\_\_\_\_\_

Odgovor: \_\_\_\_\_

\_\_\_\_\_



## SPOZNAVANJE OKOLJA

Nadomeščamo ŠPO, ker SLJ in MAT smo že, saj ne vemo kaj bo s plavalnim tečajem ali za vsak primer se pač držimo urnika.

### NAVODILO:

**SPOZNALI SMO** – ponovi str. 77

Preveri svoje znanje (namesto učitelja naj te ocenijo starši).

**SPOZNALI SMO**

Sadno drevo se spreminja glede na letni čas.

Prve rastline so naznanile pomlad.

Drevesa in grmi zelenijo in cvetijo.

Prebudili so se zimski zaspanci, vračajo se ptice selivke.

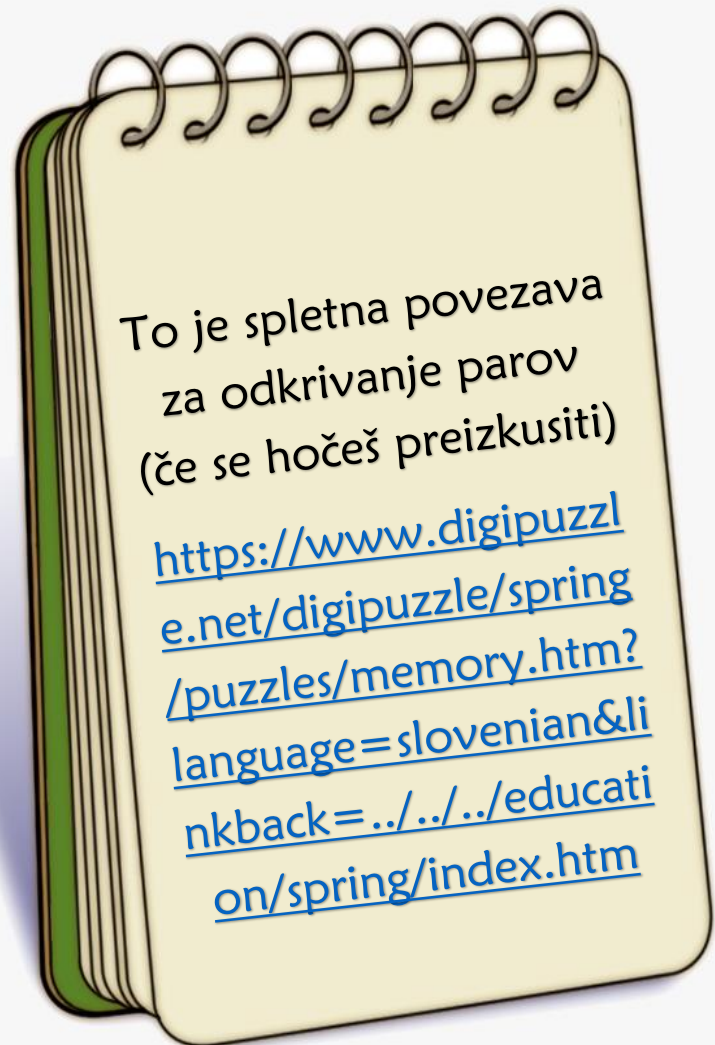
Rastline za življenje potrebujejo zrak, vodo, svetlobo in ustrezno temperaturo.

**PREVERIM SVOJE ZNANJE** JAZ UČITELJ

1. Če je trditev pravilna, krožec pobarvaj zeleno.

- Pomlad se prične marca.
- Spomladi listje odpada z dreves.
- Brsteča vejica v vazi se v učilnici razcveti kasneje kakor v naravi.
- Lastovice spomladi odletijo v tople kraje.
- Na vrtu sejemo in sadimo zelišča.
- Spomladi se prebudijo živali, ki so zimo prespale.
- Ptice spletajo gnezda.
- Rastline potrebujejo za rast zrak, vodo, svetlobo in ustrezno temperaturo.

2. Napiši imena pomladnih cvetlic in sadnih dreves.







# SLOVENSKI JEZIK

## NAVODILO:


**ZBIRAM STARI PAPIR** – v DZ na str. 39 reši naloge.

**ZBIRAM PAPIR**


1. Ogledaj si slike in ob njih pripoveduj.

KAJ  
SE JE  
ZGODILO  
NAJPREJ?





KAJ  
SE JE  
ZGODILO  
NAZADNJE?



2. Nariši in napiši, kaj se je zgodilo nazadnje.



## SPOZNAVANJE OKOLJA

### NAVODILO:

**ŽIVIM ZDRAVO** - DZ str. 78

V zvezek naredimo miselni vzorec

Jem raznoliko hrano

Zadosti pijem in spim

**ŽIVIM ZDRAVO**

Se veliko gibljem

Skrbim za higieno



# GLASBENA UMETNOST

## NAVODILO:

**DVA MAJCENA ŠOPKA** - besedilo in melodijo najdemo na spletni strani Lilibi (naučite se jo in jo zapojte mami, čeprav je materinski dan že mimo, ampak mami jo lahko zapojemo vsak dan v letu).

To ponavljate cel teden.

## DVA MAJCENA ŠOPKA

Neža Maurer, Matevž Fabijan



C F C

Dva be-la, dva maj-ce-na šo-pka dro-bnih cve-tlic sem na-bral. En

F C G7 C

šo-pek bom ma-mi na p-rsi, dru-ge-ga v\_la-se ji dal. En

F C G7 C

šo-pek bom ma-mi na p-rsi, dru-ge-ga v\_la-se ji dal.

POSNETKU PESMICE LAHKO  
PRISLUHNETE TUDI NA:

<https://www.youtube.com/watch?v=DjHdoDrRSNQ>

DVA BELA, DVA MAJCENA ŠOPKA  
DROBNIH CVETLIC SEM NABRAL.  
EN ŠOPEK BOM MAMI NA PRSI,  
DRUGEGA V LASE JI DAL.

CVETLIC ZARDELIH IN BELIH  
NISEM OB VODI ISKAL.  
V EN ŠOPEK ZA MAMICO MOJO  
KAR SVOJE PRSTKE SEM ZBRAL.

V NAROČJE BOM MAMICI SPLEZAL,  
ROKO JI DAL NA SRCE.  
NA RAHLO ZAPLETTEL BOM DRUGO  
V NJENE MEHKE LASE.







## **2-uri LIKOVNA UMETNOST**

### NAVODILO:

Za vsako trditev v miselnem vzorcu, v zvezku za SPO, nariši risbico

ALI

izdelaj izdelek iz tetrapaka.



Vir: Google (tetrapack diy)

LAHKO  
UPORABIŠ TUDI  
KATERO OD TEH  
IDEJ ALI PA ZA  
IDEJAMI  
POBRSKAŠ NA  
INTERNETU.





## 2. uri - SLOVENSKI JEZIK

### NAVODILO:

**IZDELEK IZ TETRAPAKA** – preberi besedilo v DZ str. 40 (izdelka ti ni potrebno izdelati).

Reši nalogo na str. 41.

#### IZDELEK IZ TETRAPAKA

##### 1. Preberi.

Tetrapak je odpadna embalaža. Iz njega lahko naredimo kaj koristnega, na primer lonček za pisalo ali vazo.

##### MATERIAL:

- odpadna embalaža – tetrapak,
- papirnate brisače,
- lepilo (moka in voda),
- vodene ali tempera barvice.

##### PRIPOMOČKI:

- škarje,
- čopič.



##### POSTOPEK IZDELAVE

1. Tetrapak odreži na polovici.
2. Spodnji del tetrapaka dobro operi in obrisaj.
3. S škarjami poljubno oblikuj zgornji rob.
4. Pripravi lepilo iz moke in vode. Zmes mora biti gosta kot jogurt in dobro zmešana.
5. Zunanji del tetrapaka premaži z lepilom in obloži s plastjo papirnatih brisač. To ponovi vsaj trikrat.
6. Pusti, da se dobro posuši.
7. Izdelek poljubno pobarvaj.
8. Če želiš, ga lahko polakiraš z brezbarvnim lakom.

##### 2. Preberi vprašanje. V besedilu poišči podatek in ga vpisi v preglednico.

VPRAŠANJE	PODATEK
Katero odpadno embalažo boš potreboval?	
Katere barvice boš potreboval?	
Katere pripomočke moraš pripraviti?	
Kje boš odrezal tetrapak?	
Kateri del tetrapaka boš opral in obrisal?	
S čim boš oblikoval zgornji rob?	
Za kaj boš potreboval moko in vodo?	
Kako gosta mora biti zmes vode in moke?	
S čim boš obložil z lepilom premazan tetrapak?	
Koliko plasti papirnatih brisač boš nalepil?	
Kaj boš naredil, ko se bo izdelek dobro posušil?	
S kakšnim lakom ga lahko polakiraš?	

Poglej, kaj sem naredil iz odpadne embalaže.



Vseč mi je. Tudi v revijah in na spletu je velika idej.





## NAVODILO:

**VELIKA IN MALA PISANA ČRKA L** - delaš po ustaljenem postopku. Najprej si oglej poteze za pisanje črke.

Napiši : 2 vrsti malih pisanih črk

2 vrsti velikih pisanih črk.

Vse črke, ki jih bomo pisali sedaj so čez 2 vrstici.

Lahko jih zapisuješ v zvezek z vmesno črto.

Nato novo pridobljeno črko uporabi v besedi:

lonec,....

luna


milo

Lia

Lea

Alina

VSE PO ENO VRSTO.



**MATEMATIKA****NAVODILO:****SEŠTEVANJE DE + E – DOPOLNJEVANJE DO D**

Ogled razlage v DZ str. 67

Na strani 68 in 69 rešiš naloge

16. Seštej.

$8+2=$ ___	$2+8=$ ___	$3+7=$ ___
$18+2=$ ___	$62+8=$ ___	$73+7=$ ___
$58+2=$ ___	$42+8=$ ___	$33+7=$ ___

17. Seštej.

+3	+4	+5	+9
47	56	85	31
17	76	45	21
37	36	75	81
97	66	25	41
57	86	15	31

18. Seštej.

$24+6=$ ___	$64+6=$ ___	$36+4=$ ___
$57+3=$ ___	$7+13=$ ___	$93+7=$ ___
$35+5=$ ___	$52+8=$ ___	$51+9=$ ___
$41+9=$ ___	$4+36=$ ___	$9+41=$ ___

19. Dopolni do naslednje desetice.

38	57	75	81	29	12	46	63	84	6
2									
40									

20. Črke vpiši pod rezultate v preglednici.

$90+4=$ ___	A	$41+4=$ ___	E
$33+6=$ ___	T	$10+0=$ ___	S
$10+5=$ ___	S	$63+3=$ ___	A
$81+9=$ ___	R	$90+9=$ ___	N
$3+70=$ ___	P	$70+4=$ ___	P
$3+22=$ ___	I	$8+71=$ ___	R
		$60+9=$ ___	T

73	94	15	39	25	90

74	45	10	69	79	99	66



21. Seštej.

$20+30+4=$ ___	$20+7+10=$ ___
$10+20+6=$ ___	$10+6+20=$ ___
$10+60+2=$ ___	$30+9+10=$ ___
$40+40+8=$ ___	$90+0+10=$ ___
$50+20+7=$ ___	$70+8+10=$ ___





## ŠPORT

### NAVODILO:

Čim več se gibaj v naravi, teči, skači, kolesari na dvorišču, igraj se z žogo (upam, da bo lepše vreme kot prejšnji teden). Cel teden.



Oglasim se spet za 3 dni. Če kaj ne razumete me povprašajte in mi napišite.

Vaša učiteljica Ana

Brezplačna interaktivna učna gradiva:

- [interaktivne-vaje.si](http://interaktivne-vaje.si)
- [www.Lilibi.si](http://www.Lilibi.si) (1.–3. razred) ... potrebna brezplačna prijava