



2. uri – SLOVENSKI JEZIK

NAVODILA:

V SREDO POPOLDNE (Ela Peroci) - V berilu preberi zgodbo na strani 68, 69

Preberi, lahko večkrat, in ustno odgovori na zastavljena vprašanja v berilu.

Nato napiši pravljico o našem razredu.

PRAVLJICA O 2. D RAZREDU

To je bilo nekoč v ponedeljek popoldne.

Učenci iz 2. D razreda niso hodili v šolo.

Vsi so bili doma, ker je deželo napadel

koronavirus. ...

napiši pravljico za
svojega prijatelja, lahko
tudi v obliki stripa, če ti
je to bolj všeč





ŠPORT

NAVODILO:

Čim več se gibaj, sprehajaj, migaj. Tudi vreme se obeta lepše, zato se čim več gibaj v naravi.

(Plavalni tečaj najverjetneje letos odpade zato se spet držimo urnika).



**MATEMATIKA****NAVODILA:****ODŠTEVAM DE – E** – na str. 74 si oglej slikovno razlago.

Branjevec je imel na stojnici 58 jajc. Razbilo se je 8 jajc.
Koliko jajc je branjevec lahko prodal?



$$58 - 8 = 50$$

Branjevec je lahko prodal 50 jajc.

Oglej si sliko. Preberi račun.



$$27 - 7 = 20$$

Vir: Rajsp, M. (2018). Lili in Bine 2. Samostojni delovni zvezek za matematiko v drugem razredu osnovne šole. Ljubljana: Rokus Klett.

V zvezek nariši:

IIII ...

$$46 - 6 = 40$$



NAVODILA ZA DELO

Reši še 2., 3. in 4. nalogo na 75 strani.

4. nalogo prepisi v zvezek.

2. Odštej.

$23 - 3 = \underline{\quad}$

$42 - 2 = \underline{\quad}$

$57 - 7 = \underline{\quad}$

$75 - 5 = \underline{\quad}$

$64 - 4 = \underline{\quad}$

$66 - 6 = \underline{\quad}$

$34 - 4 = \underline{\quad}$

$81 - 1 = \underline{\quad}$

$55 - 5 = \underline{\quad}$

$22 - 2 = \underline{\quad}$

$65 - 5 = \underline{\quad}$

$78 - 8 = \underline{\quad}$

$44 - 4 = \underline{\quad}$

$92 - 2 = \underline{\quad}$

$51 - 1 = \underline{\quad}$

3. Črke vpiši pod rezultate v preglednici. Preberi, katerega izmed znanilcev pomladi ima Sara najraje. Obkroži sličico.

$46 - 6 = \underline{\quad}$

N

$92 - 2 = \underline{\quad}$

E

$35 - 5 = \underline{\quad}$

O

$69 - 9 = \underline{\quad}$

T

$71 - 1 = \underline{\quad}$

O

$13 - 3 = \underline{\quad}$

B

$27 - 7 = \underline{\quad}$

I

$54 - 4 = \underline{\quad}$

T

$10 - 10 = \underline{\quad}$

C

$83 - 3 = \underline{\quad}$

R



60	80	30	10	90	40	50	20	0	70



4. Reši.

zmanjševanec	57	98	42	35	21	73	66	14	89
odštevanec	7	8	2	5	1	3	6	4	9
razlika									





SLOVENSKI JEZIK

NAVODILO:

VELIKA IN MALA PISANA ČRKA K - po ustaljenem postopku:

- ogled potez
- zapis v zvezke z vmesno črto
- rešiš še naloge v DZ



Vir: Kramarič, M. (2019). Lili in Bine. Delovni zvezek za opismenjevanje. Ljubljana: Rokus Klett.



SPOZNAVANJE OKOLJA

NAVODILO:

ONESNAŽEVANJE – na str. 80 v DZ prebereš besedilo.
Rešiš nalogo v DZ.

ONESNAŽEVANJE

Naš planet Zemlja je precej onesnažen. Onesnaženi so zrak, reke, morja in zemlja. Največji onesnaževalci so prevozna sredstva in tovarne. Na smetiščih se kopičijo ogromne količine odpadkov. Zaradi onesnaževanja zbolevalo ljudi, živali in rastline.




1. Prečtaj ilustracije, ki prikazujejo napačna ravnanja.





V zvezek na eno stran naredimo miselni vzorec:





GLASBENA UMETNOST

NAVODILO:

POMLADNA - besedilo in melodijo najdemo na spletni strani Lilibi. To ponavljate cel teden.

POMLADNA

Janez Bitenc

D A7 D A


Na po - lju ro - ži - ce cve - to, na dre - vju pa

D A

pti - čki po - jo, _____ z _ne - ba nam sve - ti

D e A7 D

son - ček zlat, že pri - šla je k _nam po - mlad. _____



NA POLJU ROŽICE CVETO,
NA DREVJU PA PTIČKI POJO,
Z NEBA NAM SVETI SONČEK ZLAT,
ŽE PRIŠLA JE K NAM POMLAD.

IZ GOZDA SEM PA ZNANI GLAS
NAZNANJA, DA PRIŠLA JE V VAS
SPET DROBNA, MILA KUKAV'CA,
SRCA MOJ'GA LJUBICA.

POSNETKU PESMICE LAHKO
PRISLUHNETE TUDI NA:

<https://www.youtube.com/watch?v=JMqwrIGN3fl>



LIKOVNA UMETNOST

NAVODILO:

- Ilustriraj pesem **POMLADNA** v zvezek za glasbo.





2. uri - SLOVENSKI JEZIK

NAVODILO:

SPOZNALI SMO – v DZ na str. 44 (opis živali, orientacija; kako pridem iz kuhinje do vrta;

Stopnjevanje pridevnika: nizko – nižje – najnižje

lepa – lepša – najlepša, ...

vse te primere poveš ustno

Preveri svoje znanje str. 45

SPOZNALI SMO

Poslušaj in ugani. Ima dolga ušesa in kratek rep. Telo ima pokrito z dlako. Rad je zelje.

To je zajec. Dobro si opisal žival.



Domav. Odlično si opisala pot do čebelnjaka.



Bine, poslušaj! Pot pričneš pri marjetici in letiš mimo cvetoče češnje. Od češnje nadaljuješ pot mimo najvišje smreke. Kam si priletel?

Jaz pa na najvišji roži.

Sedim na visoki roži.



PREVERIM SVOJE ZNANJE

JAZ

UČTELI

1. V vsaki vrsti primerjaj lastnosti in jih zapiši.



majhen



velika



najvišji

2. Preberi besedilo. Dopolni poved v oblaku.

Moji mucji je ime Pika. Živi v stanovanju. Pika je siamska muca. Njeno telo je valjaste oblike. Pokrito je z daljšo mehko belo dlako. Na spodnjem delu trupa ima štiri noge. Na nogah ...

S prijateljem sva se odpravila na spomladanski sprehod. Pot sva začela pri naši hiši. Šla sva po ozki poti po bregu navzgor. Pri velikem hrastu sva zavila levo in nadaljevala pot do ...

Napisal bom opis

Napisala bom opis



NAVODILO:

BESEDE S ŠIRŠIM POMENOM – v DZ na str. 46, 47

Skupino predmetov lahko imenujemo z eno besedo.

zvonček, trobentica, marjetica, vrtnica, nagelj →

z eno besedo imenujemo **ROŽE**.

BESEDE S ŠIRŠIM POMENOM



Gregor je odšel z mamico na pokrito tržnico. Mamica je kupila jabolka, hruške in pomaranče pri prodajalcu, ki je prodajal SADJE. Korenje, petersilj, cvetačo in krompir je kupila pri stojnici, kjer je pisalo ZELENJAVA. Gregor ima zelo rad sir in jogurt. Zato sta odšla še do stojnice z napisom MLEČNI IZDELKI.




1. Pod besedo s širšim pomenom napiši besede iz besedila.

SADJE	ZELENJAVA	MLEČNI IZDELKI



2. V okence napiši besedo s širšim pomenom.



3. Pod besedo s širšim pomenom nariši predmete.

SLADICE

IGRAČE

IGRALA



NAVODILA ZA DELO

V črtasti zvezek narišeš 3 stolpce in napišeš:

SLADKARIJE	ŠOLSKE POTREBŠČINE	POHIŠTVO
Spodaj napišeš ali narišeš	Spodaj napišeš ali narišeš	Spodaj napišeš ali narišeš

**MATEMATIKA****NAVODILO:**

Besedilne naloge in ponovi seštevanje do 100 -
v DZ na str. 76.

5. Na začetku šolskega leta je imela Ina 36 barvic. Izgubila je 6 barvic.
Koliko barvic še ima?



Odgovor: _____

6. Na gredici cveti 25 narcis. Nika je odtrgala 5 narcis.
Koliko narcis je še na gredici?

Odgovor: _____

7. Danes je vrtnarijo obiskalo 49 kupcev. Moških je bilo 9, ostale so
bile ženske.
Koliko žensk je danes obiskalo vrtnarijo?

Odgovor: _____

Ponovim ←

$40 + 7 = \underline{\quad}$

$8 + 30 = \underline{\quad}$

$20 + 6 = \underline{\quad}$

$60 + 3 = \underline{\quad}$

$6 + 42 = \underline{\quad}$

$50 + 5 = \underline{\quad}$

$62 + 5 = \underline{\quad}$

$9 + 50 = \underline{\quad}$

$68 + 1 = \underline{\quad}$

$75 + 3 = \underline{\quad}$

$8 + 71 = \underline{\quad}$

$72 + 7 = \underline{\quad}$





ŠPORT

NAVODILO:

Gremo na sprehod.





Nič se mi ne javite, prosim, naj starši kaj napišejo, da bom vedela ali vse naloge razumete in jih opravite ali jih je preveč ali premalo.

Vaša učiteljica Ana

Brezplačna interaktivna učna gradiva:

- interaktivne-vaje.si
- www.Lilibi.si (1.–3. razred) ... potrebna brezplačna prijava