

**MATEMATIKA****NAVODILA:**

BESEDILNE NALOGE – v DZ na str. 70, naloga 22., 23.

24. nalogo račun in odgovor zapišeš v zvezek.

Na 71. Strani reši naloge, saj zmoreš. ČE TI VSEH NE BO USPELO, POPROSI STARŠE ZA POMOČ.

22. Kolikšna je vsota števil 20 in 7?

Odgovor: _____

23. Miha je imel 23 frnikol. Jure mu je podaril 7 frnikol in 4 žogice. Koliko frnikol je imel Miha?

Odgovor: _____

Miha je med igračami našel še 9 frnikol.
Kaj lahko izračunaš?

Izračunam lahko, _____

Odgovor: _____



NAVODILA ZA DELO

24. nalogo račun in odgovor zapišeš v zvezek.



- | | |
|---|---|
| 24. 1. V muzeju je razstavljenih 21 rut in 9 klobukov. Koliko pokrival si lahko ogledajo obiskovalci? | 2. Na srečanju starih vozil je bilo 35 avtomobilov in 4 motorji. Koliko je bilo vseh starih vozil skupaj? |
| 3. Kaja ima v zbirki 33 znamk. Teta Neža ji podari še 2 znamki. Kaj lahko izračunaš? | 4. Na viteškem turnirju je sodelovalo 21 vitezov z meči in 9 vitezov s sulicami. Kaj lahko izračunaš? |

Vir: Rajsp, M. (2018). Lili in Bine 2. Samostojni delovni zvezek za matematiko v drugem razredu osnovne šole. Ljubljana: Rokus Klett.

Na 71. Strani reši naloge, saj zmoreš. ČE TI VSEH NE BO USPELO, POPROSI STARŠE ZA POMOČ.

REŠI, SAJ ZMOREŠ

1. Izračunaj razliko števil 100 in 40. Izračunaj vsoto števil 52 in 8. Ali sta rezultata enaka. DA NE

Izračunaj vsoto števil 30 in 3. Izračunaj razliko števil 40 in 8. Ali sta rezultata enaka. DA NE

2. Blok, v katerem stanuje Matevž, je visok 27 m. Blok, v katerem stanuje Gašper, je 3 m višji. Koliko je visok blok, v katerem stanuje Gašper?
Odgovor: _____

3. Nika bi svojo igračo postavila tako, da bi bila oddaljena 1 cm od avtomobila in 2 cm od medvedka. Nariši piko, kjer bi stala Nikina igrača.

4. Ugotovi, po katerem pravilu lahko sestaviš zaporedje iz števil. Zapiši zaporedje.

32 34 30 36
38 40 28 42

□ □ □ □ □ □ □ □

ZMOREM!!



Vir: Rajsp, M. (2018). Lili in Bine 2. Samostojni delovni zvezek za matematiko v drugem razredu osnovne šole. Ljubljana: Rokus Klett.

**GLASBENA UMETNOST****NAVODILO:****DVA MAJCENA ŠOPKA – ponavljaljaj pesem.****DVA MAJCENA ŠOPKA**

Neža Maurer, Matevž Fabijan



C F C

Dva be-la, dva maj-ce-na šo-pka dro-bnih cve-tlic sem na-bral. En

F C G⁷ C

šo-pek bom ma-mi na p-rsi, dru-ge-ga v_la-se ji dal. En

F C G⁷ C

šo-pek bom ma-mi na p-rsi, dru-ge-ga v_la-se ji dal.

POSNETKU PESMICE LAHKO
PRISLUHNETE TUDI NA:

<https://www.youtube.com/watch?v=DjHdoDrRSNQ>

DVA BELA, DVA MAJCENA ŠOPKA
DROBNIH CVETLIC SEM NABRAL.
EN ŠOPEK BOM MAMI NA PRSI,
DRUGEGA V LASE JI DAL.

CVETLIC ZARDELIH IN BELIH
NISEM OB VODI ISKAL.
V EN ŠOPEK ZA MAMICO MOJO
KAR SVOJE PRSTKE SEM ZBRAL.

V NAROČJE BOM MAMICI SPLEZAL,
ROKO JI DAL NA SRCE.
NA RAHLŌ ZAPLETTEL BOM DRUGO
V NJENE MEHKE LASE.



Vir: Lili in Bine 2. Dostopno na: www.Lilibi.si



SPOZNAVANJE OKOLJA

NAVODILO:

SKRBIM ZA OKOLJE – v DZ na str. 79.

Ponujene so različne možnosti skrbi za okolje. Označi katere izvajaš TI.

SKRBIM ZA OKOLJE

Vsak izmed nas rad živi v čistem okolju. K temu lahko pripomoremo na različne načine.

1. 5 ✓ označi, katere od naštetih aktivnosti izvajaš ti.

 <p>Zbiram star papir.</p>	 <p>Medtem ko si ščetkam zobe, zaprem vodo.</p>	 <p>Sejem in sadim nove rastline.</p>
 <p>Varčujem z energijo.</p>	 <p>Kompostiram.</p>	 <p>Ločujem odpadke.</p>

Pozor! Ostanke nevarnih snovi, kartuše in baterije zbiramo na ustreznih zbirališčih.



SLOVENSKI JEZIK

NAVODILO:

OD DOMA DO RIBNIKA - DZ str. 42., 43.

Besedilo večkrat preberi in potuj z Lanom in njegovim očkom po ilustraciji.

OD DOMA DO RIBNIKA

Lan živi v mestu. Stanuje v rumeni hiši pod gradom. Z očkom se odločita, da bosta kolesarila.

Pred hišo zavijeta desno. Peljeta po ulici mimo stolpnice do kolesarske steze. Zavijeta desno na kolesarsko stezo. Pot nadaljujeta mimo pošte do črpalke. Ustavita se pri prehodu za pešce. Stopita s koles in peš prečkata cesto. Peljeta se čez most in v prvem križišču zavijeta levo. Pot nadaljujeta do kozolca. Pri kozolcu zavijeta levo. Prikolesarita do ribnika.



Se enkrat preberi besedilo in s prstom potuj od Lanovega doma do ribnika.
Je pot dobro opisana?



Nato odgovori na 43. strani. Vseh 7 dopolnjenih povedi prepisi z malimi tiskanimi črkami v zvezek.



1. Obkroži črko pred besedami, ki pravilno dopolnijo poved. Črke vpiši v okenca.

1. Lan stanuje v
K rumeni hiši.
B stolpnici.
C bloku.

5. Čez prehod za pešce sta
A se peljala.
S šla peš.

2. Očka in Lan sta se peljala
po ulici mimo
A trgovine.
O stolpnice.
C črpalke.

6. V križišču sta
B se peljala naravnost.
A zavila levo.
C zavila desno.

3. Zavila sta
A levo na kolesarsko stezo.
L desno na kolesarsko
stezo.

7. K ribniku sta zavila pri
R kozolcu.
B pošti.
C stolpnici.

4. Ustavila sta se pri
A šoli.
E prehodu za pešce.
C gradu.

1	2	3	4	5	6	7
---	---	---	---	---	---	---

Lan ima čelado.

Za rolanje sem dobro opremljen.
Napiši, kako sta opremljena
očka in Lan za kolesarjenje.



Vir: Kramarič, M. (2018). Lili in Bine 2. Samostojni delovni zvezek za sloveščino v drugem razredu osnovne šole. Ljubljana: Rokus Klett.

OD DOMA DO RIBNIKA

Lan stanuje...



SLOVENSKI JEZIK

NAVODILO:

VELIKA IN MALA PISANA ČRKA T - postopek poznamo. (ogled potez, vadimo po mizi, na list) nato v zvezek

2 vrsti malih pisanih t, 2 vrsti velikih T.

Nato še besede. Vsako besedo napišemo celo vrsto:

vtičnica

tanko


tele

Tilen

Tea

Tina

VSE PO ENO VRSTO.




Vir: Kramarič, M. (2019). Lili in Bine. Delovni zvezek za opismenjevanje. Ljubljana: Rokus Klett.

Rešiš še naloge v »belem« zvezku

**MATEMATIKA****NAVODILO:**

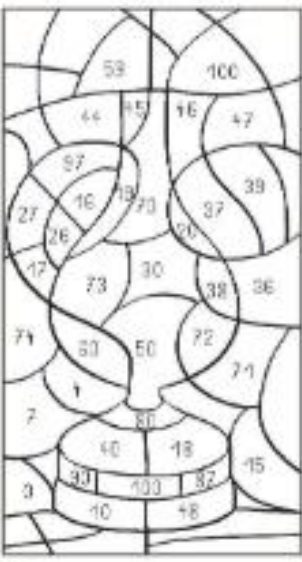
PREVERI SVOJE ZNANJE str. 72. 73

Naloge rešuješ sam in se nato oceniš. Namesto učitelja naj te ocenijo starši.



PREVERIM SVOJE ZNANJE JAZ UČITELJ

1. Pobarvaj polja z rezultati.

$42+3=$ _____		$10+20=$ _____
$57+3=$ _____		$69+1=$ _____
$70+3=$ _____		$100-50=$ _____
$90-50=$ _____		$12+6=$ _____
$84+3=$ _____		$40+50=$ _____
$32+6=$ _____		$91+9=$ _____
$60-40=$ _____		$30-20=$ _____
$72+0=$ _____		$45+3=$ _____
$100-20=$ _____		$16+3=$ _____

2. Maja je stara 8 let, očka je 30 let starejši od nje.
Koliko je star očka?

Odgovor: _____

3. Kaja je prebrala 82 strani knjige, Tim pa 5 strani več.
Koliko strani je prebral Tim?

Odgovor: _____



NAVODILA ZA DELO

4. Maja, Tija in Hana so s koraki izmerile dolžino sobe. Meritve so zapisale.

Maja: 9 korakov

Tija: 7 korakov

Hana: 8 korakov

Obkroži ime dekllice, ki je delala najdaljše korake.

Maja

Tija

Hana

5. Izmeri in napiši, kolikšna je razdalja med igračami.



1. Razdalja med rdečo in modro fnikolo je _____ cm.
2. Razdalja od žoge do avtomobilčka je _____.
3. Medvedek je od kolebnice oddaljen _____.
4. Žoga je od medvedka oddaljena _____.

6. Na prvem tovornjaku je 40 m cevi, na drugem pa 6 m več kot na prvem.
Koliko metrov cevi je na drugem tovornjaku?

Odgovor: _____



SPOZNAVANJE OKOLJA

NAVODILO:

SKRB ZA OKOLJE - PRIPRAVI MISELNI VZOREC v zvezek na 2 strani.

V njem predstavi kako ti in člani tvoje družine skrbite za okolje. (na zeleni podlagi na 79. strani imaš navodila).

SKRB ZA OKOLJE




ŠPORT

NAVODILO:

Čim več se gibaj, sprehajaj, migaj. Če je prehladno pleši, najdi vaje na Youtube.





Vsak dan pridno berite, kaj zapišite in računajte, saj tako sproti utrjujete svoje znanje.

Ostanite **DOMA** in **ZDRAVI**.

Vaša učiteljica Ana

Brezplačna interaktivna učna gradiva:

- interaktivne-vaje.si
- www.Lilibi.si (1.–3. razred) ... potrebna brezplačna prijava