

**MATEMATIKA**NAVODILA:ODŠTEVAMO DE - E

V zvezek napišemo:

Odštevamo DE - E

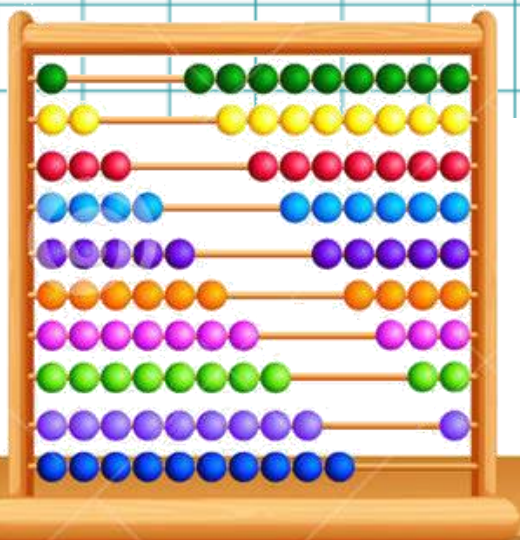
IIIIII-...///

$$65 - 3 = 62$$

Nariši in izračunaj še primera za:

$$49 - 5 =$$

$$87 - 4 =$$





Nato si ogledaš slikovne primere na str. 77 v DZ.

Rešiš stran v DZ – 78 in 79.

V škatlah je bilo 67 jajc. Kuharica je za palačinke porabila 5 jajc.
Koliko jajc je ostalo v škatlah?

$$67 - 5 = 62$$

V škatlah je ostalo 62 jajc.

Oglej si sliko. Preberi račun.

$$38 - 6 = 32$$

Vir: Rajsp, M. (2018). Lili in Bine 2. Samostojni delovni zvezek za matematiko v drugem razredu osnovne šole. Ljubljana: Rokus Klett.

Rešiš stran v DZ – 78 in 79.

9. Odštej.

$9 - 2 = \underline{\quad}$	$6 - 3 = \underline{\quad}$	$9 - 6 = \underline{\quad}$
$39 - 2 = \underline{\quad}$	$16 - 3 = \underline{\quad}$	$49 - 6 = \underline{\quad}$
$99 - 2 = \underline{\quad}$	$66 - 3 = \underline{\quad}$	$69 - 6 = \underline{\quad}$

10. Odštej.

$95 - 3 = \underline{\quad}$	$59 - 8 = \underline{\quad}$	$39 - 6 = \underline{\quad}$
$82 - 1 = \underline{\quad}$	$68 - 6 = \underline{\quad}$	$75 - 3 = \underline{\quad}$
$79 - 6 = \underline{\quad}$	$27 - 4 = \underline{\quad}$	$54 - 2 = \underline{\quad}$
$47 - 5 = \underline{\quad}$	$89 - 7 = \underline{\quad}$	$96 - 5 = \underline{\quad}$
$38 - 7 = \underline{\quad}$	$46 - 5 = \underline{\quad}$	$67 - 4 = \underline{\quad}$

11. Na prvi polici je bilo 89 sadik, na drugi polici pa 7 sadik manj.
Koliko sadik je bilo na drugi polici?

Odgovor: _____

12. Zmanjševanec je 89, odštevanec je 1.
Kolikšna je razlika?

Odgovor: _____

13. Kolikšna je razlika števil 69 in 7?

Odgovor: _____

14. Pobarvaj polja z rezultati.

$89 - 2 = \underline{\quad}$	$17 - 5 = \underline{\quad}$	$78 - 8 = \underline{\quad}$
$92 - 1 = \underline{\quad}$	$89 - 5 = \underline{\quad}$	$57 - 3 = \underline{\quad}$
$76 - 4 = \underline{\quad}$	$46 - 3 = \underline{\quad}$	$36 - 2 = \underline{\quad}$
$55 - 2 = \underline{\quad}$	$24 - 4 = \underline{\quad}$	$19 - 8 = \underline{\quad}$
$38 - 7 = \underline{\quad}$	$99 - 9 = \underline{\quad}$	$87 - 5 = \underline{\quad}$

15. Prečrtaj račune z nepravilnim rezultatom. Prečitane račune prepisi in pravilno izračunaj.

$45 - 4 = 49$	_____
$55 - 4 = 58$	_____
$98 - 7 = 91$	_____
$73 - 3 = 76$	_____

Vir: Rajsp, M. (2018). Lili in Bine 2. Samostojni delovni zvezek za matematiko v drugem razredu osnovne šole. Ljubljana: Rokus Klett.



GLASBENA UMETNOST

NAVODILO:

POMLADNA - besedilo in melodijo najdemo na spletni strani Lilibi. Pesmico poj in ponavljaj.




POMLADNA

Janez Bitenc

Na po - lju ro - ži - ce cve - to, na dre - vju pa

pti - čki po - jo, z ne - ba nam sve - ti

son - ček zlat, že pri - šla je k nam po - mlad.



NA POLJU ROŽICE CVETO,
NA DREVJU PA PTIČKI POJO,
Z NEBA NAM SVETI SONČEK ZLAT,
ŽE PRIŠLA JE K NAM POMLAD.

IZ GOZDA SEM PA ZNANI GLAS
NAZNANJA, DA PRIŠLA JE V VAS
SPET DROBNA, MILA KUKAV'CA,
SRCA MOJ'GA LJUBICA.

POSNETKU PESMICE LAHKO
PRISLUHNETE TUDI NA:

<https://www.youtube.com/watch?v=JMqwrIGN3fl>



SPOZNAVANJE OKOLJA

NAVODILO:

IZDELAJ IZDELEK IZ ODPADNEGA MATERIALA

K miselnemu vzorcu za onesnaževanje, ki si ga narisal v zvezek nariši še znak za reciklažo.



znak za recikliranje –
ponovno predelavo in
uporabo.

Izdelaj iz odpadnega materiala lonček za shranjevanje barvic. Mogoče pa imaš ti še boljšo idejo za kakšen izdelek.









SLOVENSKI JEZIK

NAVODILO:

PRAVE NAVADE ZA ZDRAVO ŽIVLJENJE – v DZ na str. 51, si oglej ilustracije, nato poveš katere zdrave navade otroci na njih pridobivajo. Otrokom lahko daš imena. Ustno lahko poveš več povedi.

PRAVE NAVADE ZA ZDRAVO ŽIVLJENJE

t. Ob vsaki slički povej, katere od navad za zdravo življenje si pridobiva otrok.

Kako si ti pridobivaš prave navade za zdravo življenje?
Kaj pa tvoji domači?
Razloži pregovor »Kar se Janezek nauči, to Janez zna«.





Za vsako sličico iz DZ pa v zvezek z vmesno črto napiši z malimi tiskanimi črkami vsaj 1 poved.

PRAVE NAVADE ZA ZDRAVO ŽIVLJENJE



(48., 49., 50. stran v DZ smo izpustili, saj bomo poslušali Tomažev svet, da bomo lahko te strani rešili.)



SLOVENSKI JEZIK

NAVODILO:

VELIKA IN MALA PISANA ČRKA H

Postopek poznamo:

- Ogled potez za pisanje črk
- 2 vrsti malih pisanih črk
- 2 vrsti velikih pisanih črk

V zvezek še celo vrsto napišeš besede:

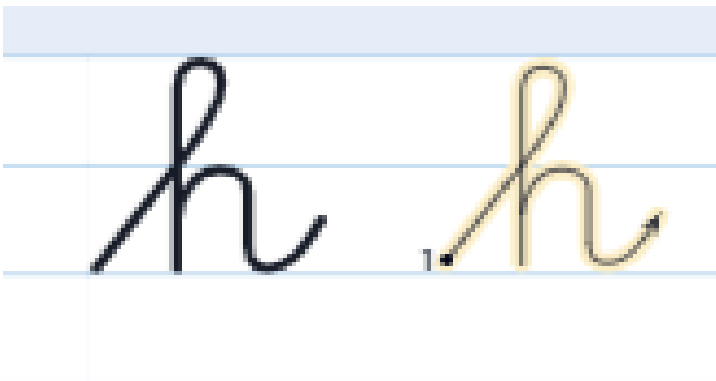
hiša

meh

Helena

Miha

VSE PO ENO VRSTO.



Vir: Kramarič, M. (2019). Lili in Bine. Delovni zvezek za opismenjevanje. Ljubljana: Rokus Klett.

V DZ napišeš še obe črki.




**MATEMATIKA****NAVODILO:****UTRJUJEMO IN PONAVLJAMO ODŠTEVANJE**

Pri delu si pomagaj s stotičkom. Še boljše pa bo, če bo šlo brez njega.

Naloge skušaj rešiti sam, starši naj samo pregledajo, če si se pri katerem zmotil. SAJ ZMOREŠ! Veliko si že vadil in zato pokaži svoje znanje.

V DZ rešiš tri strani (80, 81, 82).

16. Oglej si sliko. Napiši račun.



17. Odštej

$10 - 2 = \underline{\quad}$	$10 - 4 = \underline{\quad}$	$10 - 5 = \underline{\quad}$
$50 - 2 = \underline{\quad}$	$90 - 4 = \underline{\quad}$	$50 - 5 = \underline{\quad}$
$70 - 2 = \underline{\quad}$	$20 - 4 = \underline{\quad}$	$30 - 5 = \underline{\quad}$

18. Odštej

$80 - 1 = \underline{\quad}$	$60 - 6 = \underline{\quad}$	$90 - 2 = \underline{\quad}$
$60 - 3 = \underline{\quad}$	$40 - 4 = \underline{\quad}$	$80 - 4 = \underline{\quad}$
$40 - 5 = \underline{\quad}$	$80 - 2 = \underline{\quad}$	$70 - 3 = \underline{\quad}$
$20 - 7 = \underline{\quad}$	$60 - 2 = \underline{\quad}$	$60 - 9 = \underline{\quad}$
$30 - 7 = \underline{\quad}$	$40 - 6 = \underline{\quad}$	$100 - 8 = \underline{\quad}$

19. Na spomladanskem teku sodeluje 80 tekačev. V cilj je že priteklo 8 tekačev. Koliko tekačev še teče?

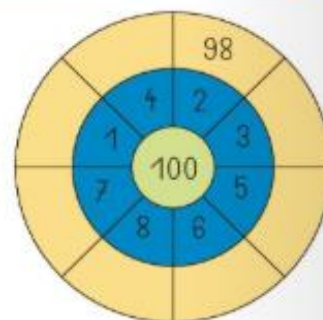
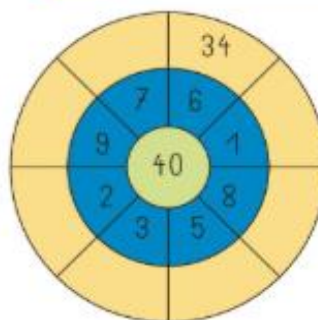
Odgovor: _____

20. Šivilja je imela 100 cm dolgo elastiko. Odrezala je 8 cm elastike. Koliko centimetrov elastike ji je ostalo?

Odgovor: _____



21. Odštej



22. Odštej

30	-3	□
	-8	□
	-5	□

80	-5	□
	-7	□
	-2	□

70	-1	□
	-9	□
	-6	□

50	-4	□
	-7	□
	-3	□

23. Dopolni.

	70	50	80	30	100	40	90	60
za 8 manj	62							



SPOZNAVANJE OKOLJA

NAVODILO:

MOJE TELO – najdeš v DZ na str. 82 in 83.

Najprej na Lilibi sestavi OKOSTJE, nato NOTRANJE ORGANE 1 in 2.



Notranji organi 1



Notranji organi 2



Okostje

Vir: Lili in Bine 2. Dostopno na: www.Lilibi.si





Preberi razlago na str. 82 in podčrtaj v besedilu pomembne besede:

Kosti, okostje, skelet, srce, želodec, jera, ledvice, pljuča, črevesje, možgani.

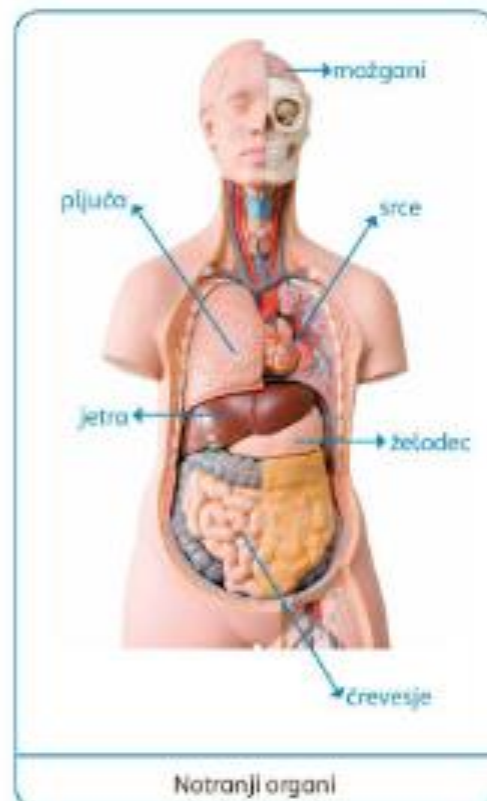
MOJE TELO

Poimenuj zunanje dele svojega telesa.



Ali veš, kaj je v notranjosti tvojega telesa?

Med seboj se razlikujemo po spolu, barvi kože in oči, po velikosti ... Oporo našemu telesu dajejo kosti, ki tvorijo okostje ali skelet. Srce, želodec, jetra, ledvice, pljuča in črevesje so notranji organi, ki opravljajo različne naloge. Pomemben organ v našem telesu so tudi možgani.



A Če želiš, da bo tvoje telo dobro delovalo, ga moraš poznati in zanj dobro skrbeti. V knjižnici poišči in si oglej poučne slikanice o človeškem telesu.

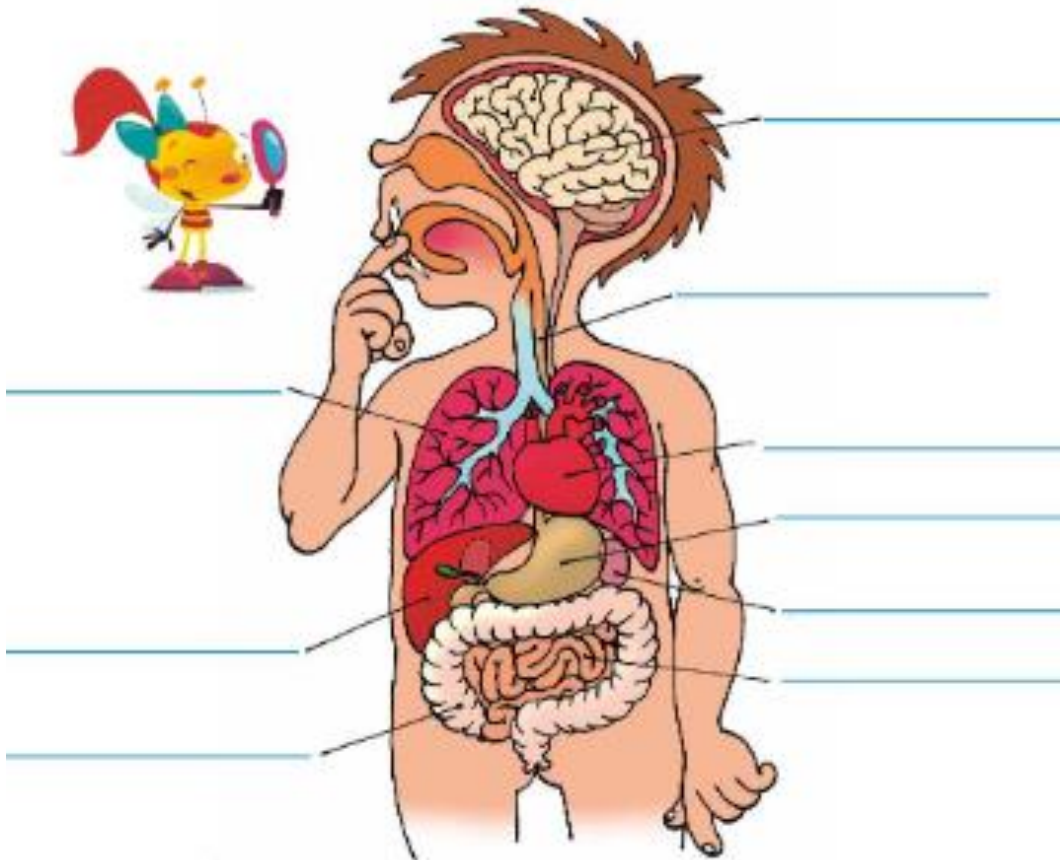


V DZ na 82. strani si oglej še ilustracije.

Dopolni 1. nalogo na 83. strani.

2. naloga – če boš rabil namig (žile, ledvice, požiralnik, debelo in tanko črevo).

1. Na črte napiši notranje dele telesa.



2. Napiši, kaj je še v notranjosti našega telesa.

Blank writing lines for the second task.



ŠPORT

NAVODILO:

Že vemo, da se vsak dan veliko gibljemo **na prostem** in uživamo ob lepem vremenu.





Pa smo se učili spet en teden, ne da bi se videli.

Pogrešam vas. Ostanite pridni, zdravi in doma do preklica karantene.

Z učiteljico Martino vam in vašim družinam želiva **lepe velikonočne praznike**, obkrožene z družino in polne mize dobrot!



Vaša učiteljica Ana

