



## 2. uri – SLOVENSKI JEZIK

### NAVODILA:

**PETER NOS - Leopold Suhodolčan** - v berilu str. 24, 25 in 26


Poznamo že veliko književnih oseb (piko Nogavičko, Krojačka Hlačka, Pedenjpeda, Petra Klepca,...) in danes bomo spoznali še Petra Nosa.

Kakšnega si predstavljaš? Zakaj se imenuje Peter Nos?

Spoznaj ga. Preberi zgodbo in iz opisa si ga boš zlahka predstavljal.

V zvezek ga nariši in v obliki miselnega vzorca najdi čim več besed, ki ga opisujejo (koliko besed najdeš, toliko puščic naredi).

vesel





## NAVODILA ZA DELO

Pod njim napiši zgodbo: Pomagal sem najti izgubljeni predmet  
(komu, kako, kdaj, kaj...)

# POMAGAL SEM NAJTI IZGUBLJENI PREDMET

Svoj miselni vzorec  
in zgodbo  
fotografiraj in ju, s  
pomočjo staršev,  
pošljite učiteljici Ani.





## ŠPORT

### NAVODILO:

Igre z žogo, skakanje kolebnice, vaje, sprehodi, teki v naravi, skrivanje – veliko časa se aktivno gibljite.



**MATEMATIKA****NAVODILA:****PREVERI SVOJE ZNANJE** – v DZ na str. 89

Naloge rešuj samostojno in oceni svoje znanje. Po pregledu rešitev naj te ocenijo še starši.

**PREVERIM SVOJE ZNANJE**      JAZ      UČTE LJ

1. Odštej.

-	6	4	2	1	5	7	3
59							
40							
78							
20							
67							

2. Reši.

$80+1=$ ___	$69-6=$ ___	$26+3=$ ___
$63-3=$ ___	$43+4=$ ___	$89-8=$ ___
$47-5=$ ___	$80-2=$ ___	$91+2=$ ___
$32+7=$ ___	$62+2=$ ___	$88+1=$ ___
$78-4=$ ___	$49-6=$ ___	$100-9=$ ___

3. Filip je imel 39 €. Za zvezek je plačal 1 €, za barvice 7 € in za radirko 1 €.  
Koliko evrov mu je ostalo?

\_\_\_\_\_

Odgovor: \_\_\_\_\_

Naslednji dan je kupil žogo za 9 €.  
Koliko denarja je ostalo Filipu?

\_\_\_\_\_

Odgovor: \_\_\_\_\_



## NAVODILA ZA DELO

Za izziv so še naloge na str. 90: REŠI, SAJ ZMOREŠ.

Besedilne naloge dobro in večkrat:

- preberi
- podčrtaj podatke
- napiši račun
- napiši odgovor

**REŠI, SAJ ZMOREŠ**

1. Vsoto števil 72 in 8 zmanjšaj za 8.  
Katero število dobiš?

\_\_\_\_\_

Odgovor: \_\_\_\_\_

2. Izračunaj vsoto števil 55 in 5 ter razliko istih dveh števil.  
Kolikšna je vsota?  
Kolikšna je razlika?

\_\_\_\_\_

Odgovor: \_\_\_\_\_

3. Razliki števil 47 in 7 prištej vsoto števil 20 in 30.  
Katero število dobiš?

\_\_\_\_\_

Odgovor: \_\_\_\_\_

4. V 2. a razredu je 9 dečkov in 9 deklic. V 2. b razredu je enako število deklic in 2 dečka več, kot je dečkov v 2. a razredu.  
Koliko učencev je v 2. b razredu?

\_\_\_\_\_

Odgovor: \_\_\_\_\_

Vir: Rajsp, M. (2018). Lili in Bine 2. Samostojni delovni zvezek za matematiko v drugem razredu osnovne šole. Ljubljana: Rokus Klett.

In tako ste končali z 2. delom matematike. Polovico nalog ste reševali sami ali skupaj s starši. Bili ste vztrajni in uspešni. Čestitam.



**TOREK,  
21. 4. 2020**

Danes izdelujemo **izdelek po načrtu.**

Izdelal/-a boš vetrnico po načrtu, ki ga najdeš  
na tej povezavi:

[https://www.youtube.com/watch?v=rSo1\\_UOy3nw&t=96s](https://www.youtube.com/watch?v=rSo1_UOy3nw&t=96s)

Zate pa imava pripravljen tudi Lego izziv, ki ga  
najdeš v dokumentu na spletni strani šole, kjer  
objavljamo gradiva za delo na daljavo (pod  
zavihkom 2. d.

**IZDELKE FOTOGRAFIRAJ IN JIH POŠLJI NA MAIL**

**UČITELJICE**

**ana.pavlinjek@ospuconci.si**

**2 uri - SLOVENSKI JEZIK****NAVODILO:**

**SPOZNALI SMO** – v DZ na str. 60

V tem poglavju smo spoznali OPIS osebe in Besede s širšim pomenom.

Za govorni nastop ponovi opis SEBE.

V zvezek nariši preglednico in z eno besedo poimenuj, kaj je naštetu v stolpcu.

avtobus	hlače	škorenj	kolebnica
letalo	krilo	copat	blazina
motor	jopica	sandal	žoga
kolo	srajca	natikač	skrinja
avto	majica	čevelj	gred

Prepiši besede z malimi tiskanimi črkami in prečrtaj vsiljica.

~~slon~~, kokoš, krava, petelin, piščanec (ker ni domača žival)

krompir, pesa, repa, banana, koruza

marmelada, meso, mleko, kruh, avtobus

zvonček, teloh, sol, mačice, vijolice



## NAVODILO:

### MALA IN VELIKA PISANA ČRKA D

Postopek poznamo:

- ogled potez za pisani črki
- 2 vrsti malih pisanih črk
- 2 vrsti velikih pisanih črk

Celo vrsto:

drevo

dimnik

Dominik



Daša

VSE PO ENO VRSTO.

ter povedi:

Dominik ima nov boben. Daša sedi na drevesu.

V DZ dokončaj obe strani. Besede in povedi prepisi v zvezek (seveda s pisanimi črkami; pri Lili in Binetu).





**MATEMATIKA****NAVODILO:****PONAVLJAMO**

Račune zapiši v zvezek in jih izračunaj.

**1. Seštej ali odštej:**

$20 + 30 =$

$50 + 40 =$

$60 + 40 =$

$20 + 20 =$

$80 + 0 =$

$60 - 30 =$

$40 - 40 =$

$90 - 0 =$

$70 - 50 =$

$50 - 20 =$

$40 + 30 =$

$90 - 70 =$

$60 - 50 =$

$50 + 50 =$

$100 - 30 =$

**2. Izračunaj:**

$4 + 20 =$

$55 - 5 =$

$30 + 9 =$

$49 - 9 =$

$50 + 2 =$

$80 + 7 =$

$8 + 40 =$

$1 + 60 =$

$66 - 6 =$

$73 - 3 =$

$34 - 4 =$

$97 - 7 =$



## ŠPORT

### NAVODILO:

Igre z žogo, skakanje kolebnice, vaje, sprehodi, teki v naravi, skrivanje – veliko časa se aktivno gibljite.





Polovica tedna je za nami in upam, da vam delo gre dobro od rok. Vesela bom vaših fotografij izdelkov.

*Vaša učiteljica Ana*

Brezplačna interaktivna učna gradiva:

- [interaktivne-vaje.si](http://interaktivne-vaje.si)
- [www.Lilibi.si](http://www.Lilibi.si) (1.–3. razred) ... potrebna brezplačna prijava